



☰ 两位数乘、除以一位数

两位数除以一位数



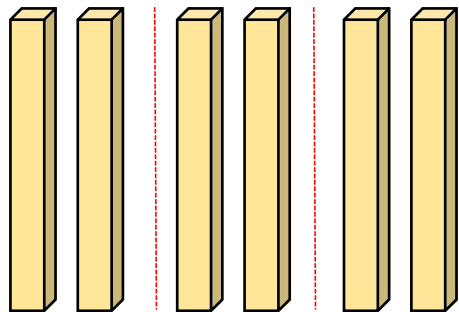


3 盒  一共 60 元，
3 盒  一共 36 元。

(1) 每盒  多少元？

$$60 \div 3 = \underline{\quad 20 \quad}$$

6 个十平均分成 3 份，
每份是 2 个十。




3 个 20 是 60，60
除以 3 等于 20。



$$(20) \times 3 = 60$$

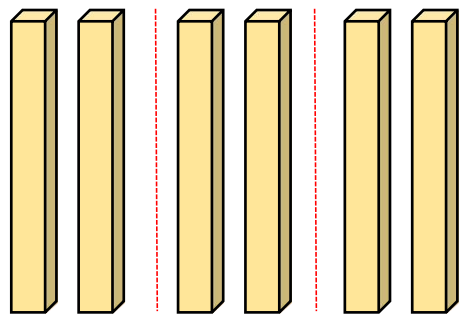
$$60 \div 3 = 20$$



3 盒  一共 60 元，
3 盒  一共 36 元。

(1) 每盒  多少元？

$$60 \div 3 = \underline{\quad 20 \quad}$$



$$6 \div 3 = \boxed{2}$$

⋮ ⋮

6 个一 (2) 个一





$$60 \div 3 = \boxed{20}$$

⋮ ⋮

6 个十 (2) 个十



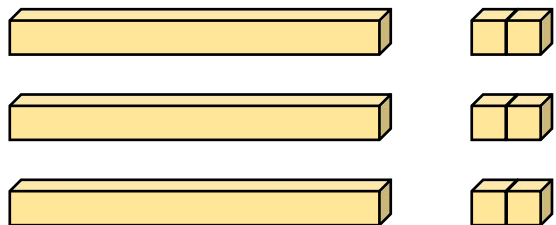
3 盒  一共 60 元，
3 盒  一共 36 元。

(2) 每盒  多少元？

$$36 \div 3 = \underline{\quad 12 \quad}$$



先把 3 个十平均分成 3 份，每份是 1 个十；再把 6 个一……



3 个 12 是 36，36 除以 3 等于 12。



$$(12) \times 3 = 36$$

$$36 \div 3 = 12$$



(2) 每盒  多少元?

$$36 \div 3 = \underline{\quad 12 \quad}$$

你能填一填吗?

$$30 \div 3 = \boxed{10}$$

$$6 \div 3 = \boxed{2}$$

$$\boxed{10} + \boxed{2} = \boxed{12}$$

分别编一个用 $60 \div 3$, $36 \div 3$ 解决的实际问题。



想想做做

1.

$$9 \div 3 = 3$$

$$90 \div 3 = 30$$

$$13 \times 2 = 26$$

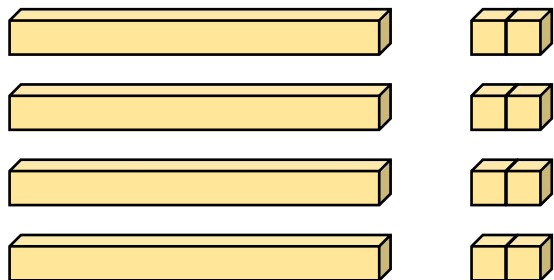
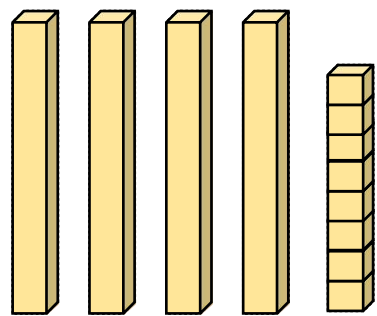
$$26 \div 2 = 13$$

$$21 \times 4 = 84$$

$$84 \div 4 = 21$$

想想做做

2. 怎样计算 $48 \div 4$? 先分一分, 再填一填。




$$40 \div 4 = 10$$

$$8 \div 4 = 2$$

$$10 + 2 = 12$$

想想做做

3. 40 个同学打乒乓球。都是单打，可以分成多少组？都是双打呢？




$$40 \div 2 = 20 \text{ (组)} \quad 40 \div 4 = 10 \text{ (组)}$$

口答：都是单打，可以分成20组。都是双打，可以分成10组。

想想做做

4. 哪种树苗贵一些？



5 棵杨树苗 55 元



3 棵松树苗 63 元

$$55 \div 5 = 11 \text{ (元)}$$

$$63 \div 3 = 21 \text{ (元)}$$

口答：松树苗贵。

你是怎样想的？

